


PRUEBA SABER CIENCIAS 2

Observa el siguiente dibujo y responde la pregunta.



20. ¿En qué orden ocurre el ciclo de vida humano?

- A. 4 → 3 → 6 → 5 → 2 → 1
- B. 3 → 4 → 5 → 6 → 2 → 1
- C. 5 → 2 → 4 → 3 → 1 → 6
- D. 6 → 5 → 2 → 4 → 3 → 1

21. Julio tiene tres hijos y cuatro nietos, su cabello se ha vuelto blanco y se mueve con dificultad, sin embargo, recuerda con mucha alegría todos los momentos que ha vivido. ¿En qué etapa de su vida se encuentra Julio?

- A. La adolescencia.
- B. La adultez.
- C. La infancia.
- D. La vejez.

22. La siguiente imagen muestra una fotografía de Camila hace cinco años.



¿Qué edad tiene Camila ahora?

- A. Entre 14 y 17 años.
- B. Entre 20 y 23 años.
- C. Entre 3 y 6 años.
- D. Entre 8 y 11 años.





Responde las preguntas 23 y 24 de acuerdo con la siguiente imagen.



23. ¿Qué característica heredó Andrea de su madre?

- A. El color de su cabello.
- B. El color de su piel.
- C. La forma de su cabello.
- D. La forma de sus pies.

24. ¿Cuál de los siguientes niños es el hermano de Diego y Andrea?



PREGUNTA ABIERTA

Responde la siguiente pregunta en la hoja de respuestas, con letra clara y sin salirte del espacio previsto para ello.

25. Los padres de Juan Carlos son altos y delgados, sin embargo, Juan Carlos tiene sobrepeso. ¿A qué se debe esta diferencia?